

Résolution de problèmes

Problème n°1

Sarah a écouté une émission à la radio de 15h20 à 16h23.

Combien de temps son émission a-t-elle duré ?

Comprendre	Entourer	Réfléchir	Vérifier	Ecrire	Attention à l'unité

Résolution de problèmes

Problème n°1

Sarah a écouté une émission à la radio de 15h20 à 16h23.

Combien de temps son émission a-t-elle duré ?

Comprendre	Entourer	Réfléchir	Vérifier	Ecrire	Attention à l'unité

Résolution de problèmes

Problème n°1

Sarah a écouté une émission à la radio de 15h20 à 16h23.

Combien de temps son émission a-t-elle duré ?

Comprendre	Entourer	Réfléchir	Vérifier	Ecrire	Attention à l'unité

Résolution de problèmes

Problème n°1

Sarah a écouté une émission à la radio de 15h20 à 16h23.

Combien de temps son émission a-t-elle duré ?

Comprendre	Entourer	Réfléchir	Vérifier	Ecrire	Attention à l'unité


Résolution de problèmes


Problème n°1


Sarah a écouté une émission à la radio de 15h20 à 16h23.


Combien de temps son émission a-t-elle duré ?

Comprendre	Entourer	Réfléchir	Vérifier	Ecrire	Attention à l'unité

Résolution de problèmes	Problème n°2												
<p>Devrik vient de prendre l'avion pour se rendre en Espagne. Quelle est la durée du trajet ?</p>													
<table border="1" style="width: 100%; border-collapse: collapse;"> <tr> <td style="width: 16.6%; text-align: center;">Comprendre</td> <td style="width: 16.6%; text-align: center;">Entourer</td> <td style="width: 16.6%; text-align: center;">Réfléchir</td> <td style="width: 16.6%; text-align: center;">Vérifier</td> <td style="width: 16.6%; text-align: center;">Ecrire</td> <td style="width: 16.6%; text-align: center;">Attention à l'unité</td> </tr> <tr> <td style="height: 20px;"></td> <td></td> <td></td> <td></td> <td></td> <td></td> </tr> </table>	Comprendre	Entourer	Réfléchir	Vérifier	Ecrire	Attention à l'unité							
Comprendre	Entourer	Réfléchir	Vérifier	Ecrire	Attention à l'unité								

Résolution de problèmes	Problème n°2												
<p>Devrik vient de prendre l'avion pour se rendre en Espagne. Quelle est la durée du trajet ?</p>													
<table border="1" style="width: 100%; border-collapse: collapse;"> <tr> <td style="width: 16.6%; text-align: center;">Comprendre</td> <td style="width: 16.6%; text-align: center;">Entourer</td> <td style="width: 16.6%; text-align: center;">Réfléchir</td> <td style="width: 16.6%; text-align: center;">Vérifier</td> <td style="width: 16.6%; text-align: center;">Ecrire</td> <td style="width: 16.6%; text-align: center;">Attention à l'unité</td> </tr> <tr> <td style="height: 20px;"></td> <td></td> <td></td> <td></td> <td></td> <td></td> </tr> </table>	Comprendre	Entourer	Réfléchir	Vérifier	Ecrire	Attention à l'unité							
Comprendre	Entourer	Réfléchir	Vérifier	Ecrire	Attention à l'unité								

Résolution de problèmes	Problème n°2												
<p>Devrik vient de prendre l'avion pour se rendre en Espagne. Quelle est la durée du trajet ?</p>													
<table border="1" style="width: 100%; border-collapse: collapse;"> <tr> <td style="width: 16.6%; text-align: center;">Comprendre</td> <td style="width: 16.6%; text-align: center;">Entourer</td> <td style="width: 16.6%; text-align: center;">Réfléchir</td> <td style="width: 16.6%; text-align: center;">Vérifier</td> <td style="width: 16.6%; text-align: center;">Ecrire</td> <td style="width: 16.6%; text-align: center;">Attention à l'unité</td> </tr> <tr> <td style="height: 20px;"></td> <td></td> <td></td> <td></td> <td></td> <td></td> </tr> </table>	Comprendre	Entourer	Réfléchir	Vérifier	Ecrire	Attention à l'unité							
Comprendre	Entourer	Réfléchir	Vérifier	Ecrire	Attention à l'unité								

Résolution de problèmes	Problème n°2												
<p>Devrik vient de prendre l'avion pour se rendre en Espagne. Quelle est la durée du trajet ?</p>													
<table border="1" style="width: 100%; border-collapse: collapse;"> <tr> <td style="width: 16.6%; text-align: center;">Comprendre</td> <td style="width: 16.6%; text-align: center;">Entourer</td> <td style="width: 16.6%; text-align: center;">Réfléchir</td> <td style="width: 16.6%; text-align: center;">Vérifier</td> <td style="width: 16.6%; text-align: center;">Ecrire</td> <td style="width: 16.6%; text-align: center;">Attention à l'unité</td> </tr> <tr> <td style="height: 20px;"></td> <td></td> <td></td> <td></td> <td></td> <td></td> </tr> </table>	Comprendre	Entourer	Réfléchir	Vérifier	Ecrire	Attention à l'unité							
Comprendre	Entourer	Réfléchir	Vérifier	Ecrire	Attention à l'unité								

Résolution de problèmes

Problème n°3

Mathesonne a commencé à repeindre sa chambre à 13h13. Il a terminé à 16h38.

Combien de temps a-t-il mis pour peindre sa chambre ?

Comprendre	Entourer	Réfléchir	Vérifier	Ecrire	Attention à l'unité

Résolution de problèmes

Problème n°3

Mathesonne a commencé à repeindre sa chambre à 13h13. Il a terminé à 16h38.

Combien de temps a-t-il mis pour peindre sa chambre ?

Comprendre	Entourer	Réfléchir	Vérifier	Ecrire	Attention à l'unité

Résolution de problèmes

Problème n°3

Mathesonne a commencé à repeindre sa chambre à 13h13. Il a terminé à 16h38.

Combien de temps a-t-il mis pour peindre sa chambre ?

Comprendre	Entourer	Réfléchir	Vérifier	Ecrire	Attention à l'unité

Résolution de problèmes

Problème n°3

Mathesonne a commencé à repeindre sa chambre à 13h13. Il a terminé à 16h38.

Combien de temps a-t-il mis pour peindre sa chambre ?

Comprendre	Entourer	Réfléchir	Vérifier	Ecrire	Attention à l'unité

Résolution de problèmes

Problème n°3

Mathesonne a commencé à repeindre sa chambre à 13h13. Il a terminé à 16h38.

Combien de temps a-t-il mis pour peindre sa chambre ?

Comprendre	Entourer	Réfléchir	Vérifier	Ecrire	Attention à l'unité

Résolution de problèmes**Problème n°4**

Pour rendre visite à sa famille, Elyan prend le train à 12h50 et arrive à Paris à 15h30. Il prend ensuite le métro. Il arrive à 16h50 chez ses parents.

Combien de temps a-t-il mis ?

Comprendre	Entourer	Réfléchir	Vérifier	Ecrire	Attention à l'unité

Résolution de problèmes**Problème n°4**

Pour rendre visite à sa famille, Elyan prend le train à 12h50 et arrive à Paris à 15h30. Il prend ensuite le métro. Il arrive à 16h50 chez ses parents.

Combien de temps a-t-il mis ?

Comprendre	Entourer	Réfléchir	Vérifier	Ecrire	Attention à l'unité

Résolution de problèmes**Problème n°4**

Pour rendre visite à sa famille, Elyan prend le train à 12h50 et arrive à Paris à 15h30. Il prend ensuite le métro. Il arrive à 16h50 chez ses parents.

Combien de temps a-t-il mis ?

Comprendre	Entourer	Réfléchir	Vérifier	Ecrire	Attention à l'unité

Résolution de problèmes**Problème n°4**

Pour rendre visite à sa famille, Elyan prend le train à 12h50 et arrive à Paris à 15h30. Il prend ensuite le métro. Il arrive à 16h50 chez ses parents.

Combien de temps a-t-il mis ?

Comprendre	Entourer	Réfléchir	Vérifier	Ecrire	Attention à l'unité

Résolution de problèmes**Problème n°4**

Pour rendre visite à sa famille, Elyan prend le train à 12h50 et arrive à Paris à 15h30. Il prend ensuite le métro. Il arrive à 16h50 chez ses parents.

Combien de temps a-t-il mis ?

Comprendre	Entourer	Réfléchir	Vérifier	Ecrire	Attention à l'unité

Résolution de problèmes**Problème n°5**

Cécile et Xavier font un tour de l'île de La Réunion. Ils partent de chez eux à 6h30 et font une pause à 11h35. Ils reprennent la route à 14h20 et rentrent chez eux à 18h26.

Combien de temps ont-ils passé en voiture ?

Comprendre	Entourer	Réfléchir	Vérifier	Ecrire	Attention à l'unité

Résolution de problèmes**Problème n°5**

Cécile et Xavier font un tour de l'île de La Réunion. Ils partent de chez eux à 6h30 et font une pause à 11h35. Ils reprennent la route à 14h20 et rentrent chez eux à 18h26.

Combien de temps ont-ils passé en voiture ?

Comprendre	Entourer	Réfléchir	Vérifier	Ecrire	Attention à l'unité

Résolution de problèmes**Problème n°5**

Cécile et Xavier font un tour de l'île de La Réunion. Ils partent de chez eux à 6h30 et font une pause à 11h35. Ils reprennent la route à 14h20 et rentrent chez eux à 18h26.

Combien de temps ont-ils passé en voiture ?

Comprendre	Entourer	Réfléchir	Vérifier	Ecrire	Attention à l'unité

Résolution de problèmes**Problème n°5**

Cécile et Xavier font un tour de l'île de La Réunion. Ils partent de chez eux à 6h30 et font une pause à 11h35. Ils reprennent la route à 14h20 et rentrent chez eux à 18h26.

Combien de temps ont-ils passé en voiture ?

Comprendre	Entourer	Réfléchir	Vérifier	Ecrire	Attention à l'unité

Résolution de problèmes**Problème n°5**

Cécile et Xavier font un tour de l'île de La Réunion. Ils partent de chez eux à 6h30 et font une pause à 11h35. Ils reprennent la route à 14h20 et rentrent chez eux à 18h26.

Combien de temps ont-ils passé en voiture ?

Comprendre	Entourer	Réfléchir	Vérifier	Ecrire	Attention à l'unité

Résolution de problèmes	Problème n°6
--------------------------------	---------------------

Antoine et Pierre sont invités à une soirée. Ils arrivent à 19h40 et repartent à 2h10.

Combien de temps sont-ils restés à la soirée ?

Comprendre	Entourer	Réfléchir	Vérifier	Ecrire	Attention à l'unité

Résolution de problèmes	Problème n°6
--------------------------------	---------------------

Antoine et Pierre sont invités à une soirée. Ils arrivent à 19h40 et repartent à 2h10.

Combien de temps sont-ils restés à la soirée ?

Comprendre	Entourer	Réfléchir	Vérifier	Ecrire	Attention à l'unité

Résolution de problèmes	Problème n°6
--------------------------------	---------------------

Antoine et Pierre sont invités à une soirée. Ils arrivent à 19h40 et repart à 2h10.

Combien de temps sont-ils restés à la soirée ?

Comprendre	Entourer	Réfléchir	Vérifier	Ecrire	Attention à l'unité

Résolution de problèmes	Problème n°6
--------------------------------	---------------------

Antoine et Pierre sont invités à une soirée. Ils arrivent à 19h40 et repartent à 2h10.

Combien de temps sont-ils restés à la soirée ?

Comprendre	Entourer	Réfléchir	Vérifier	Ecrire	Attention à l'unité

Résolution de problèmes	Problème n°6
--------------------------------	---------------------

Antoine et Pierre sont invités à une soirée. Ils arrivent à 19h40 et repartent à 2h10.

Combien de temps sont-ils restés à la soirée ?

Comprendre	Entourer	Réfléchir	Vérifier	Ecrire	Attention à l'unité

Résolution de problèmes**Problème n°7**

Lisa décide de regarder un film. Elle le commence à 13h18 mais fait une pause de 20 minutes pour répondre au téléphone. Elle termine le film à 15h57.

Quelle est la durée du film ?

Comprendre	Entourer	Réfléchir	Vérifier	Ecrire	Attention à l'unité

Résolution de problèmes**Problème n°7**

Lisa décide de regarder un film. Elle le commence à 13h18 mais fait une pause de 20 minutes pour répondre au téléphone. Elle termine le film à 15h57.

Quelle est la durée du film ?

Comprendre	Entourer	Réfléchir	Vérifier	Ecrire	Attention à l'unité

Résolution de problèmes**Problème n°7**

Lisa décide de regarder un film. Elle le commence à 13h18 mais fait une pause de 20 minutes pour répondre au téléphone. Elle termine le film à 15h57.

Quelle est la durée du film ?

Comprendre	Entourer	Réfléchir	Vérifier	Ecrire	Attention à l'unité

Résolution de problèmes**Problème n°7**

Lisa décide de regarder un film. Elle le commence à 13h18 mais fait une pause de 20 minutes pour répondre au téléphone. Elle termine le film à 15h57.

Quelle est la durée du film ?

Comprendre	Entourer	Réfléchir	Vérifier	Ecrire	Attention à l'unité

Résolution de problèmes**Problème n°7**

Lisa décide de regarder un film. Elle le commence à 13h18 mais fait une pause de 20 minutes pour répondre au téléphone. Elle termine le film à 15h57.

Quelle est la durée du film ?

Comprendre	Entourer	Réfléchir	Vérifier	Ecrire	Attention à l'unité

Résolution de problèmes

Problème n°8

Aujourd'hui Nathalie travaille de 8h15 à 12h puis de 13h30 à 17h15.

Elle dit qu'elle a travaillé pendant 8h. A-t-elle raison ?

Comprendre	Entourer	Réfléchir	Vérifier	Ecrire	Attention à l'unité

Résolution de problèmes

Problème n°8

Aujourd'hui Nathalie travaille de 8h15 à 12h puis de 13h30 à 17h15.

Elle dit qu'elle a travaillé pendant 8h. A-t-elle raison ?

Comprendre	Entourer	Réfléchir	Vérifier	Ecrire	Attention à l'unité

Résolution de problèmes

Problème n°8

Aujourd'hui Nathalie travaille de 8h15 à 12h puis de 13h30 à 17h15.

Elle dit qu'elle a travaillé pendant 8h. A-t-elle raison ?

Comprendre	Entourer	Réfléchir	Vérifier	Ecrire	Attention à l'unité

Résolution de problèmes

Problème n°8

Aujourd'hui Nathalie travaille de 8h15 à 12h puis de 13h30 à 17h15.

Elle dit qu'elle a travaillé pendant 8h. A-t-elle raison ?

Comprendre	Entourer	Réfléchir	Vérifier	Ecrire	Attention à l'unité

Résolution de problèmes

Problème n°8

Aujourd'hui Nathalie travaille de 8h15 à 12h puis de 13h30 à 17h15.

Elle dit qu'elle a travaillé pendant 8h. A-t-elle raison ?

Comprendre	Entourer	Réfléchir	Vérifier	Ecrire	Attention à l'unité