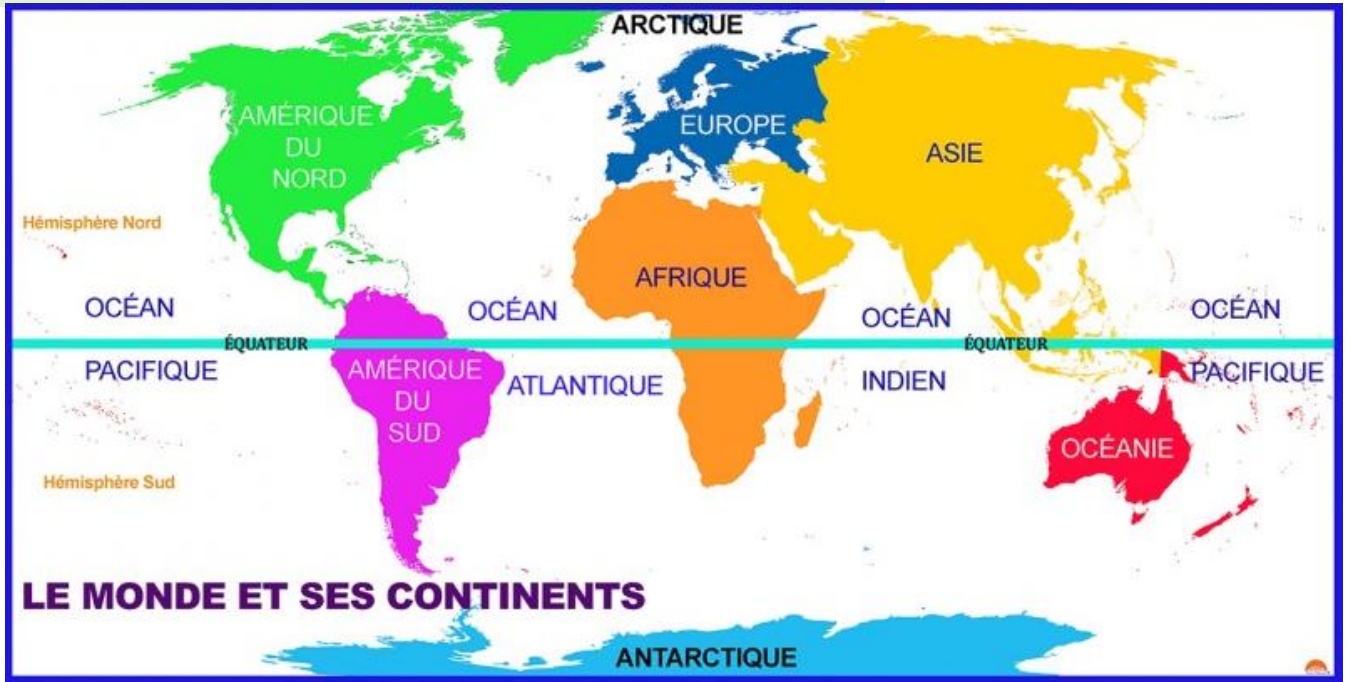


Géographie – Séance : La Réunion, un territoire français

Partie 1 : La Réunion dans le monde



Document 1 - Planisphère : représentation plane de la surface de la Terre

a) Mettre un point rouge sur le planisphère pour représenter La Réunion

b) Dans quel océan se situe La Réunion ?

c) Dans quel hémisphère se situe La Réunion ?

Partie 2 : Un territoire français



La Réunion est française depuis le 17^{ème} siècle. Elle forme avec l'île Maurice et Rodrigues l'archipel des Mascareignes.

La Réunion est un DROM (département et région d'outre-mer) tout comme Mayotte, la Guadeloupe, la Guyane et la Martinique. Son numéro de département est le 974.

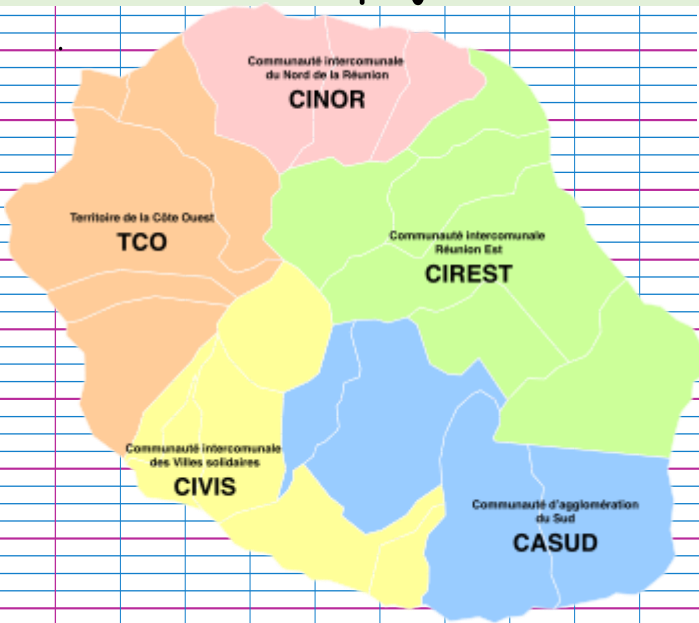
a) Souligner les réponses exactes. La Réunion est :

- un pays
- un département français
- une région
- une île
- un territoire de l'Union européenne
- un continent
- une capitale

Document 2 – Localisation de La Réunion par rapport à la France métropolitaine.

Source : Maxicours

Partie 3 : Découpage administratif



a) Combien y a-t-il d'intercommunalités à la Réunion ? Les lister

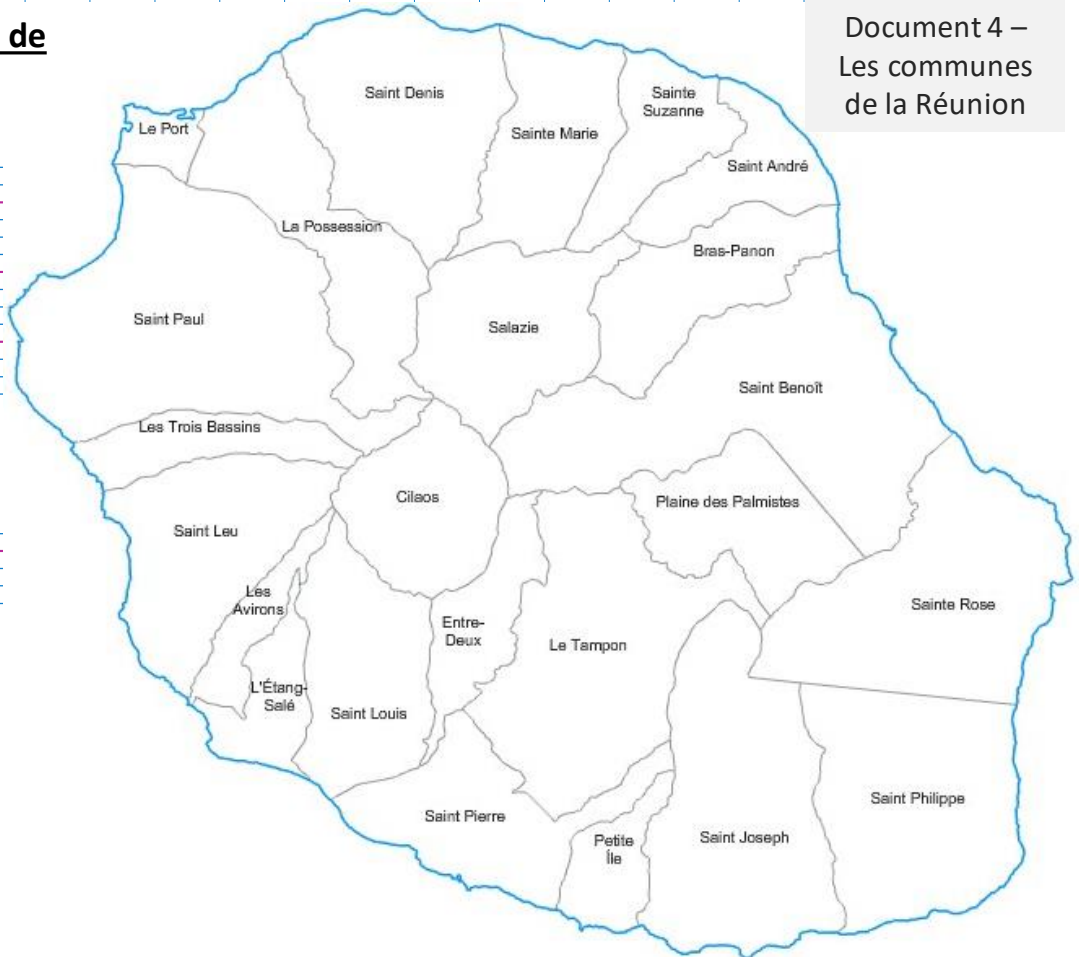
b) Sur cette carte, placer les mots suivants : nord, est, ouest, sud

c) Entoure ton intercommunalité.

Document 3 – Les Intercommunalités de la Réunion

d) Combien y a-t-il de communes à la Réunion ?

Document 4 – Les communes de la Réunion



e) Colorie ta commune.

Chaque commune possède un code postal. Par exemple, 97420 correspond au Port. **Quel est le code postal de ta commune ?**

Je retiens

La Réunion fait partie de l'Union européenne. On dit que c'est une RUP (Région Ultra Périphérique). Saint-Denis est la capitale (chef-lieu) de l'île.